

Name: _____

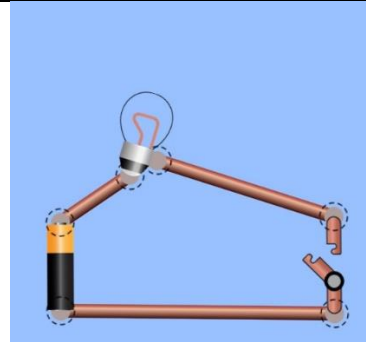
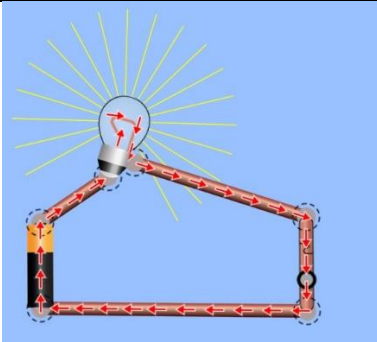
Datum: _____

Der elektrische Stromkreis

Link: <https://t1p.de/zj8t>

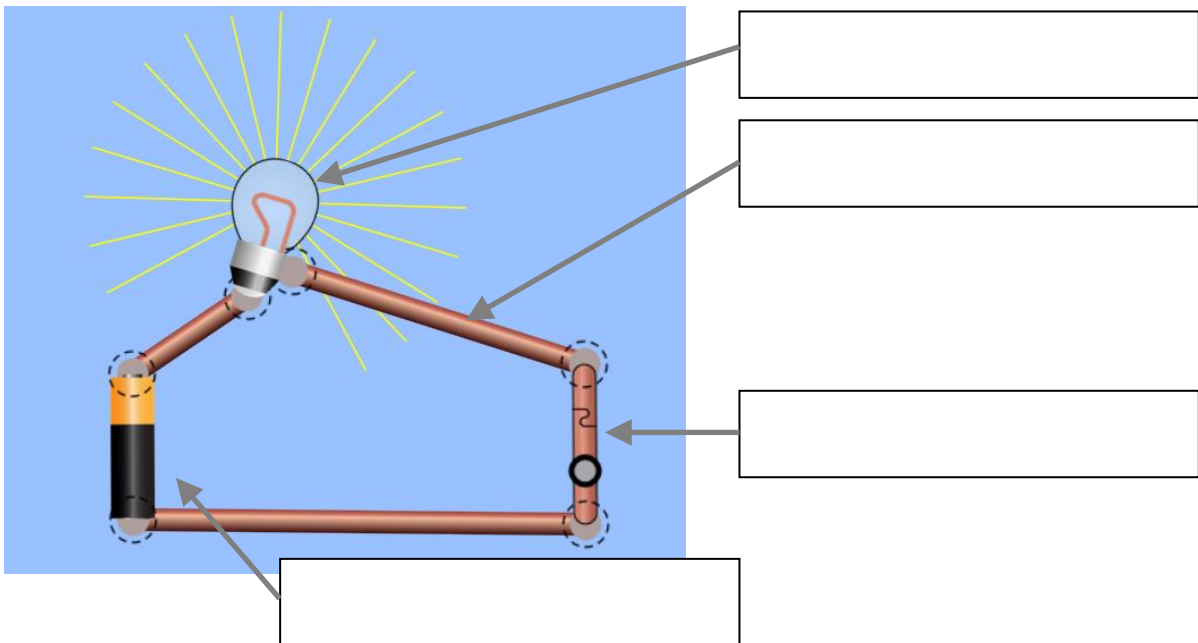
1. Welcher Stromkreis ist geschlossen?

Beschrifte: **offener Stromkreis, geschlossener Stromkreis**



2. Aus welchen Bauteilen besteht ein Stromkreis?

Beschrifte: **Draht, Glühlampe, Batterie/ Stromquelle, Schalter**



3. Mit welchem Bauteil kann der Stromkreis schnell geöffnet oder geschlossen werden?

- Glühlampe**
- Draht**
- Schalter**
- Batterie/ Stromquelle**